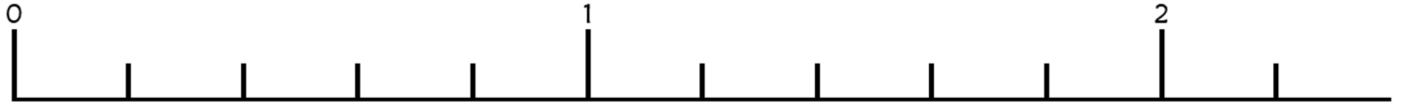




1 - Place les fractions suivantes.

$$\frac{2}{5} \quad \frac{11}{5} \quad \frac{6}{5} \quad \frac{8}{5} \quad \frac{1}{5} \quad \frac{5}{5}$$



2 - Indique à quelle fraction correspondent les lettres suivantes.



A ⇒ _____

B ⇒ _____

C ⇒ _____

D ⇒ _____

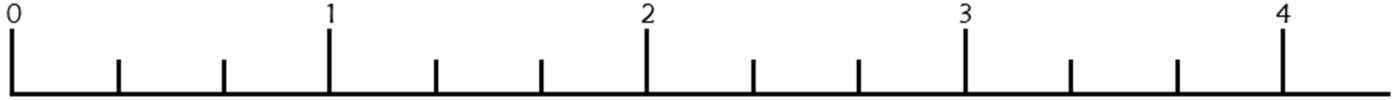
E ⇒ _____

F ⇒ _____

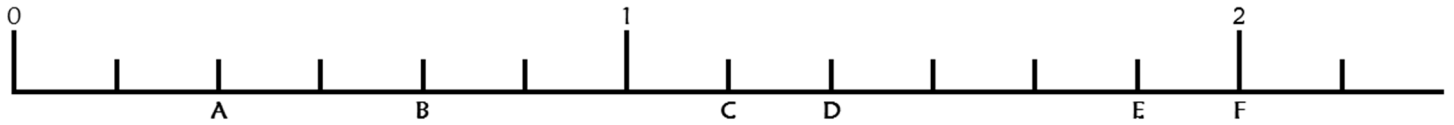


1 - Place les fractions suivantes.

$$\frac{2}{3} \quad \frac{11}{3} \quad \frac{6}{3} \quad \frac{4}{3} \quad \frac{8}{3} \quad \frac{1}{3}$$



2 - Indique à quelle fraction correspondent les lettres suivantes.



A ⇒ _____

B ⇒ _____

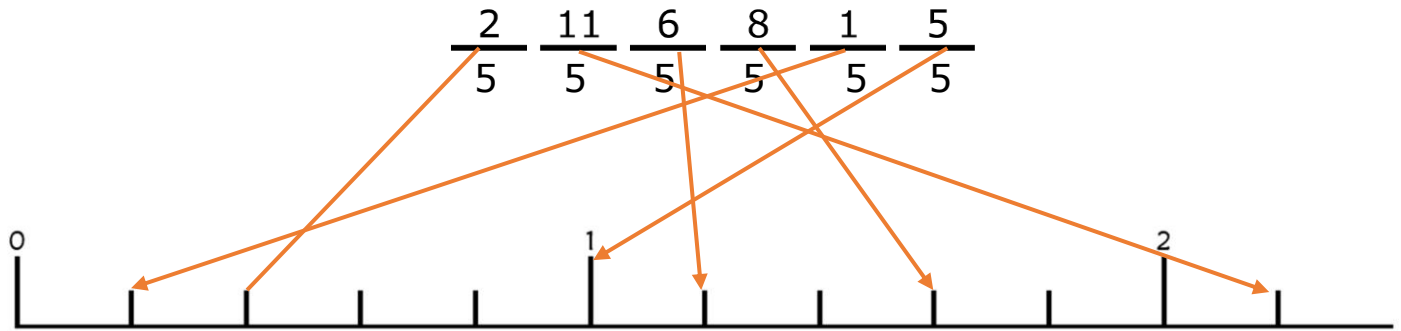
C ⇒ _____

D ⇒ _____

E ⇒ _____

F ⇒ _____

1 - Place les fractions suivantes.



2 - Indique à quelle fraction correspondent les lettres suivantes.



A \Rightarrow $\frac{1}{4}$

B \Rightarrow $\frac{3}{4}$

C \Rightarrow $\frac{5}{4}$

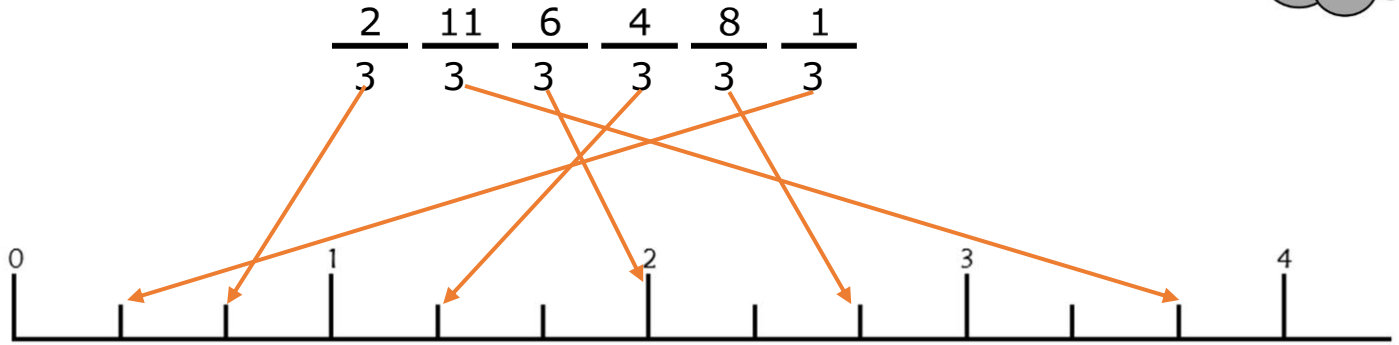
D \Rightarrow $\frac{7}{4}$

E \Rightarrow $\frac{9}{4}$

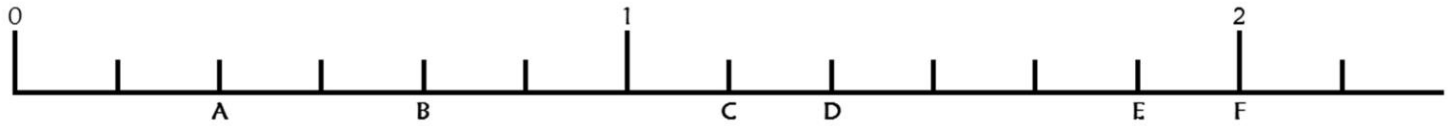
F \Rightarrow $\frac{10}{4}$



1 - Place les fractions suivantes.



2 - Indique à quelle fraction correspondent les lettres suivantes.



A \Rightarrow $\frac{2}{6}$

B \Rightarrow $\frac{4}{6}$

C \Rightarrow $\frac{7}{6}$

D \Rightarrow $\frac{8}{6}$

E \Rightarrow $\frac{11}{12}$

F \Rightarrow $\frac{12}{12}$