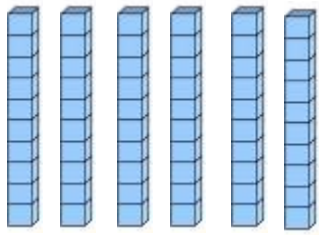


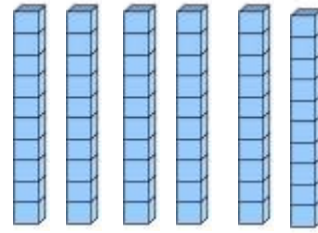
Prénom :

Date :

1 Complète.



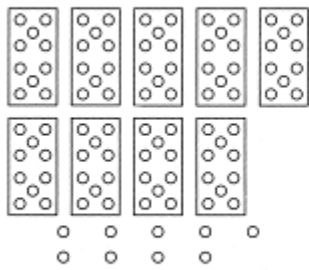
$$\square + \square = \square$$



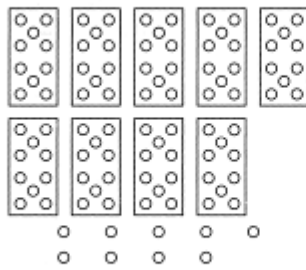
$$\square + \square = \square$$



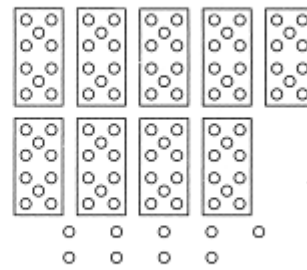
6 dizaines et 5 unités



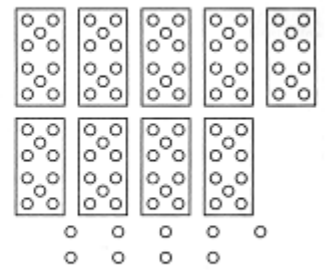
7 dizaines et 6 unités



7 dizaines et 3 unités



6 dizaines et 9 unités



3 Relie les étiquettes qui correspondent au même nombre.

Soixante-dix

67

$70 + 0$

Soixante-sept

75

$60 + 7$

Soixante-trois

63

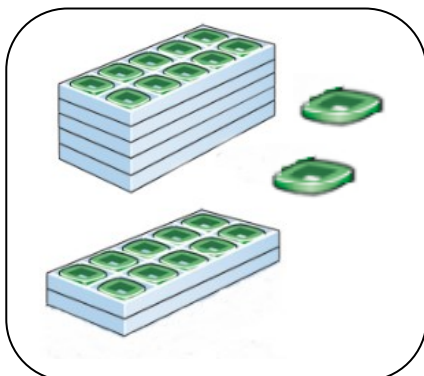
$70 + 5$

soixante-quinze

70

$60 + 3$

4 Relie

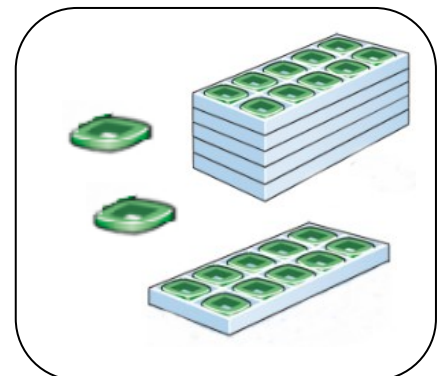


72

62

$60 + 12$

$60 + 2$



LES NOMBRES DE 60 À 79

Prénom :

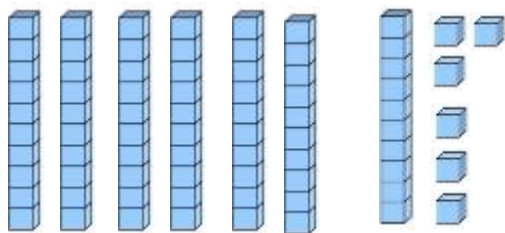
Date :

1 Ecris.

60 = soixante

70 = soixante - dix

2 Colorie les étiquettes qui correspondent au nombre.



76

$60 + 16$

Soixante-six

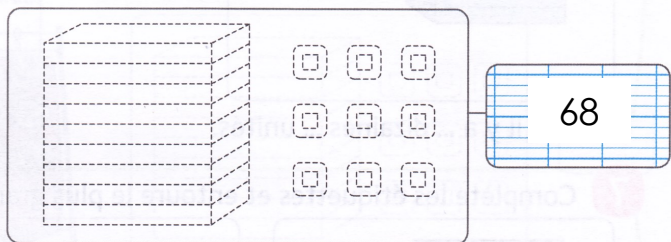
$60 + 6$

$70 + 6$

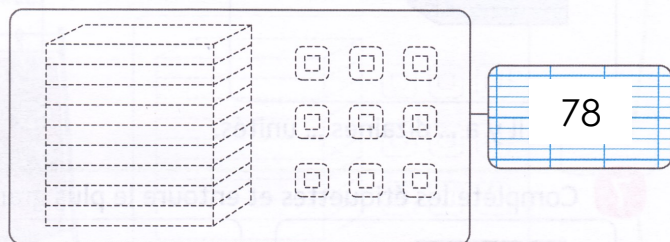
Soixante-seize

66

3 Colorie le nombre demandé et colorie la bonne étiquette.



68



78

Soixante-dix-huit

Soixante-huit

Soixante-dix-huit

Soixante-huit

4 Compte et complète

+ =

+ =

+ =

4 Calcule et complète

$60 + 15 = \dots$	$20 + 20 + 20 + 1 = \dots$	$60 + \dots = 78$
$60 + 5 = \dots$	$40 + 20 + 4 = \dots$	$60 + \dots = 74$
$60 + 13 = \dots$	$50 + 20 + 2 = \dots$	$60 + \dots = 69$

LES NOMBRES DE 60 À 79

Prénom :

Date :


1 Ecris en chiffres ou en lettres.

63	<div style="border-bottom: 1px solid blue; height: 10px; width: 100%;"></div> <div style="border-bottom: 1px solid blue; height: 10px; width: 100%;"></div> <div style="border-bottom: 1px solid blue; height: 10px; width: 100%;"></div>
75	<div style="border-bottom: 1px solid blue; height: 10px; width: 100%;"></div> <div style="border-bottom: 1px solid blue; height: 10px; width: 100%;"></div> <div style="border-bottom: 1px solid blue; height: 10px; width: 100%;"></div>


.....	<i>soixante-treize</i>
.....	<i>soixante-huit</i>

2 Entoure le nombre qui est demandé..

Soixante - quatorze



Soixante - trois



Soixante - dix-neuf



3 Ecris le nombre d'avant et le nombre d'après.

.....	68
.....	78

.....	75
.....	69

.....	70
.....	60

4 Range du plus petit au plus grand.

65	78	53	68	70	75
----	----	----	----	----	----

--	--	--	--	--	--

5 Range du plus grand au plus petit.

69	77	62	59	79	72
----	----	----	----	----	----

--	--	--	--	--	--

6 Complète comme le modèle.

74, c'est ...7... dizaines et ...4.. unités.	$74 = 70 + 4$
65, c'est dizaines et unités.	$65 =$
79, c'est dizaines et unités.	$79 =$
68, c'est dizaines et unités.	$68 =$
76, c'est dizaines et unités.	$76 =$

NOMBRES ET CALCUL

Prénom :

Date :

1 Range les nombres du plus PETIT au plus GRAND.

63	15	78	38	73	51
----	----	----	----	----	----



--	--	--	--	--	--



2 Range les nombres du plus GRAND au plus PETIT.

70	61	66	57	75	52
----	----	----	----	----	----



--	--	--	--	--	--



3 Continue les suites des nombres :

31	33	35							
----	----	----	--	--	--	--	--	--	--

0	10	20								
---	----	----	--	--	--	--	--	--	--	--

54	56	58									
----	----	----	--	--	--	--	--	--	--	--	--

8	18								
---	----	--	--	--	--	--	--	--	--

3 Calcule :

$60 + 13 = \dots$	$50 + 20 + 9 = \dots$	$40 + 27 = \dots$
$4 + 60 = \dots$	$3 + 20 + 4 = \dots$	$60 + \dots = 75$
$54 + 13 = \dots$	$35 + 24 = \dots$	$42 + 36 = \dots$